

ISKOLA NEVE:.....

CSAPAT NEVE:.....

TELEPÜLÉS:.....

2018-2019-es tanév
3-4. osztályos kategória
1. forduló

1. feladat – kvíz

Ha megnéztétek a vigyázz#KáPé vlog részeit, akkor könnyedén válaszolni tudtok az alábbi kvízSORRA. Jelöljétek a helyes válaszokat!

Minden kérdésre 1 helyes válasz van, minden helyes válasz 1 pontot ér!

1. Hány bankszámlája lehet egy embernek?

- a, bármennyi
- b, csak egy
- c, kettő: egy magán célra, egy munkáügyekhez

2. A család rendszeres kiadásai közé soroljuk:

- a, bútor, nyaralás, hűtőszekrény
- b, szerelési költségek, orvosi kiadások, múzeum látogatás
- c, víz, gáz, villany, élelmiszer

3. Melyik nem biztonsági jel, amellyel a bankjegyeket ellátják?

- a, vakjel
- b, vakfolt
- c, fluoreszkáló jelek

4. Melyik biztosítástípust kell mindenképpen befizetnie mindenkinek, akinek autója van?

- a, balesetbiztosítás
- b, CASCO
- c, kötelező gépjármű felelősségbiztosítás

5. Milyen kockázatot vállal, aki hitelt vesz fel?


- a, nem tud fizetni, mert csökken a jövedelme
- b, nem tud fizetni, mert nő a törlesztő részlet
- c, mind a kettő előfordulhat

6. Milyen műveletet lehet elvégezni a bankautomatával?

- a, számlaegyenleg lekérdezés
- b, mobiltelefonkártya feltöltés
- c, mindkettő igaz

7. Ez az egyetlen valuta a világon, amelyet nem egyetlen állam ellenőriz. megkönnyíti az áruforgalmat és egységes értékmérőként működik

- a, euró
- b, font
- c, dollár



8. Miért jó az érintőkártya, azaz a PayPass?

- a, azért mert gyors: sosem kell PIN-kódot megadni, elég csak a terminálhoz tartani a kártyát
- b, azért mert gyors: elég a terminálhoz érinteni a kártyát, és 5000 Ft összeg alatt még PIN kódot sem kell megadni
- c, azért, mert ezt bárhol elfogadják, terminál sem kell hozzá, csak a pénztárgéphez kell érinteni

9. Mikor tartanak nyitva az netbankok?

- a, a bankok nyitvatartási idején kívül
- b, amikor a bankok is nyitva tartanak
- c, a karbantartás idejét leszámítva mindig

10. Hogyan fizetik a munkabért?

- a, általában havonta és utólag
- b, általában havonta és előre
- c, általában hetente fizetik

összesen: 10 pont /

2. feladat – készpénz kontra bankkártya


A készpénz és a bankkártya napjaink két legelterjedtebb fizetőeszköze, és a legtöbb ember egymással párhuzamosan használja mindkét fizetési módot. De miben egyformák és miben különböznek egymástól, milyen előnyökkel és hátrányokkal bírnak?

Írj egy olyan rövid szituációt, amiben a készpénzes fizetés indokolt! (3 pont)

Mire kell ügyelni, a készpénz használatnál? (3 pont)

Írj egy olyan rövid szituációt, amiben a bankkártyás fizetés indokolt! (3 pont)

Mire kell ügyelni a bankkártya használatnál? (3 pont)



Jelöld az állítások előtti négyzetben, hogy az alábbi állítások igazak (I), vagy hamisak (H)!


Minden helyes válasz 1 pontot ér!

- Minden országban a legnagyobb forgalmat lebonyolító kereskedelmi bank bocsáthat ki készpénzt.
- Online vásárlásnál nem csak bankkártyával fizethetek.
- Ha elvesztem a bankkártyám, akkor elvesztem a pénzemet is.
- Ha elvesztem a készpénzem, akkor sincs gond, mert ez is csak egy eszköz, a Nemzeti Bank majd ad helyette másikat.
- A bankjegyeken lévő biztonsági jelek azt a célt szolgálják, hogy ne lehessen pénzt hamisítani.
- Minden bankkártyát csak és kizárólag abban az országban lehet használni, amelyben kiadták.
- Készpénzzel bárhol lehet fizetni.
- A készpénznek kétféle formája van, a kisebb értékűek fémből készült pénzermék, a nagyobb értékűek papírból készült bankjegyek.


összesen: 20 pont /

3. feladat – mindjárt itt a karácsony!

KáPé ezerrel készül a karácsonyra, mert imádja az ünnepeket! Már minden megvan, csak Anya ajándéka hiányzik, de tök jó dolgot talált ki neki, azzal a nyakláncsal akarja meglepni, amit Anya még a nyáron nézett ki magának. Sajnos őszre elfogyott az összes, de az üzletben megígérték, hogy karácsony előtt lesz készleten. Na az történt, hogy KáPé visszament a boltba most karácsony előtt 2 héttel, de az eladó azt mondta: nagyon sajnálja, de nem kaptak árut. Hát hogy lesz meg így a tökéletes ajándék? Aztán eszébe jutott KÁPÉnak, hogy végülis az interneten meg sem nézte a nyakláncot, pedig lehet, hogy valamilyen webshopban is árulják.



Írjátok meg, hogy KÁPÉnak mikre kell figyelnie, ha online rendeli az ajándékot! (6 pont)



A feladatok megoldásánál a számításaitokat részletesen tüntessétek fel! A helyesen logikával levezett számítások és a helyes megoldás is 1-1 pontot érnek.

KáPé az összes megspórolt pénzét, vagyis 9820 Ft-ot tud az ajándékok beszerzésére fordítani. A családjának eddig 4630 Ft-ért vásárolt, de két legjobb barátját is meglepi, kettejük ajándékára összesen 1999 Ft-ot költött.

Mennyi pénze marad Anya ajándékára?

számítás

KáPé sok webáruház kínálatát megnézte. Melyiket válassza, ha a legkedvezőbb ajánlatot akarja elfogadni, de abban is biztos akar lenni, hogy a nyaklánc még időben megérkezik?

	Ékszer Shop	Nyakláncbolt	Bizsu Butik	Nyakravaló
ár	2 190 Ft	2 400 Ft	2 100 Ft	2 090 Ft
szállítási költség	1 200 Ft	ingyenes	699 Ft	990 Ft
szállítási határidő	1-2 munkanap	3 hét	3-4 munkanap	1 hét


Számoljátok ki, hogy az egyes áruházak kínálatában szereplő nyakláncokhoz milyen áron és mennyi idő alatt juthat hozzá KáPé, és írjátok meg, hogy melyiket ajánlatot érdemes választania és miért!

Ékszer Shop ajánlata:

számítás:

Nyakláncbolt ajánlata:

számítás:



Bizsu Butik ajánlata:
számítás:

Nyakra való ajánlata:
számítás:

Melyik boltot válassza és miért? (2 pont)

összesen: 18 pont /

FELADATSOR ÖSSZESEN: 48 PONT /

