

ISKOLA NEVE:.....

CSAPAT NEVE:.....

TELEPÜLÉS:.....

2018-2019-es tanév
5-6. osztályos kategória
1.forduló

1. feladat – kvíz

Ha megnéztétek a vigyázz#KáPé vlog részeit, akkor könnyedén válaszolni tudtok az alábbi kvízSORRA. Jelöljétek a helyes válaszokat!

Minden kérdésre 1 helyes válasz van, minden helyes válasz 1 pontot ér!

- 1. A diákhitelekre jellemző, hogy a hitel fedezetüül**
 - a, az adós jövedelme szolgál
 - b, jelzálog szolgál
 - c, nincs szükség fedezetre


- 2. Miért kell egy banki kölcsön után többet visszafizetni, mint amennyit kapunk?**
 - a, mert vagyonadót kell fizetni a hitelből megvásárolt vagyontárgyak után
 - b, mert a kamat összege a bank által nyújtott szolgáltatás, jelen esetben a hitel ára
 - c, mert jövedelemadót kell fizetni a kölcsön után

- 3. Melyik nem az öngondoskodás egyik formája?**
 - a, társadalombiztosítás
 - b, nyugdíjbiztosítás
 - c, befektetés

- 4. Az államok által kivetett adószerű kötelezettség a határukat átlépő árura.**
 - a, személyi jövedelemadó
 - b, társadalombiztosítási járulék
 - c, vám

- 5. Hogyan lehet olcsóbban pénzt felvenni?**
 - a, a saját bankunk automatájából
 - b, a bankfiókban személyesen
 - c, bárhol, ahol veszünk fel, mindenhol ugyanannyiba kerül

- 6. Mikor és hol lehet igénybe venni a netbank szolgáltatásait?**
 - a, a bankok nyitvatartási idején kívül, bárhol a világon
 - b, amikor a bankok is nyitva tartanak, és csak abban az országban, ahol a számlavezető bank működik
 - c, bárhol és bármikor



7. **Hogyan nevezzük a kötelezően fizetendő legkisebb összeget, melyet a teljes munkaidőben dolgozó alkalmazottaknak a munkáltató fizetni köteles?**
a, alapjövedelem
b, minimálbér
c, létminimum
8. **Miért van szükség banktitokra?**
a, azért, hogy a konkurens bankok ne tudják meg, hogy az adott banknak hány ügyfele van
b, azért, hogy a pénzügyi tranzakciók és ügyfeladatok ne kerüljenek nyilvánosságra, és ezáltal az ügyfelek bizalma megmaradjon
c, nincs szükség banktitokra, fontos, hogy minden ügyfél pénzmozgása nyilvánosan követhető legyen bárki számára
9. **Mi az euró váltópénze?**
a, cent
b, font
c, korona
10. **Így nevezzük azokat, akik képesek különbséget tenni értékes és értéktelen között, és csak azt vásárolják meg, amire valóban szükségük van.**
a, impulzív vásárló
b, túlköltekező
c, tudatos vásárló


összesen: 10 pont /

2. feladat – készpénz kontra bankkártya

A bankkártya és a hitelkártya ránézésre nagyon hasonlítanak, mégis sok eltérés van a felhasználásukat illetően. De miben egyformák és miben különböznek egymástól, milyen előnyökkel és hátrányokkal bírnak?

Melyek azok a tulajdonságok, amelyek megegyeznek a bankkártya és a hitelkártya esetében is! Írjatok 3 példát! (3 pont)

Mire kell ügyelni a bankkártya használatnál? (3 pont)



Milyen tulajdonsága van a hitelkártyának, ami nem igaz a bankkártyára? Írjatok 3 példát! (3 pont)


Mire kell ügyelni a hitelkártya használatnál? (3 pont)

Jelöld az állítások előtti négyzetben, hogy az alábbi állítások igazak (I), vagy hamisak (H)!

Minden helyes válasz 1 pontot ér!


- Ha elvesztem a bankkártyám, akkor elvesztem a pénzemet is.
- Online vásárláskor csak online fizetési módot választhatok, tehát vagy bankkártyás fizetést vagy átutalást.
- A hitelkártyáról elköltött összeg után, egy adott idő elteltével a bank kamatot számol fel.
- Bankkártyás fizetés során minden esetben meg kell adni a PIN-kódot.
- Már létezik olyan fizetési mód is, amihez elég az okostelefonunkat használni.
- Ha a számla végösszege 200 Ft alatt van, azt nem lehet kifizetni bankkártyával, mert túl alacsony az összeg.
- A bankkártya arra is jó, hogy igazoljuk a személyazonosságunkat.
- A hitelkártyán tartott pénzzel csak a banktól felvett hiteledet törlesztheted.

összesen: 20 pont /



3. feladat – mindjárt itt a karácsony!

KáPé ezerrel készül a karácsonyra, mert imádja az Ünnepeket! Már minden megvan, csak Anya ajándéka hiányzik, de tök jó dolgot talált ki neki, azzal a nyakláncsal akarja meglepni, amit Anya még a nyáron nézett ki magának. Sajnos őszre elfogyott az összes, de az üzletben megígérték, hogy karácsony előtt lesz készleten. Na az történt, hogy KáPé visszament a boltba most karácsony előtt 2 héttel, de az eladó azt mondta nagyon sajnálja, de nem kaptak árut. Hát hogy lesz meg így a tökéletes ajándék? Aztán eszébe jutott KáPének, hogy végülis az interneten meg sem nézte a nyakláncot, pedig lehet, hogy valamilyen webshopban is árulják.



A feladatok megoldásánál a számításaitokat részletesen tüntessétek fel! A helyesen logikával levezett számítások és a helyes megoldás is 1-1 pontot érnek.


KáPé összesen 16 000 Ft-ot tett félre a karácsonyi ajándékokra, ezt az összeget is a bankszámláján tartja. A családjának eddig 9590 Ft-ért vásárolt, de két legjobb barátját is meglepi, kettejük ajándékára összesen 1999 Ft-ot költött.

Mennyi pénze marad Anya ajándékára?
számítás

Milyen költségekkel kell számolnia a megrendelés során, illetve mire kell még figyelnie?
Húzzátok alá, ami most fontos lehet számára! (6 pont)

szállítási költség
fizetés módja (utánvét, banki átutalás, bankkártyás fizetés, PayPal)
jól szemügyre venni az árut
szállítási határidő
legkedvezőbb ár megkeresése
telefonos rendelési lehetőség
biztonságos webhely-tanúsítvány
esetleges vám és vámkezelési költségek
az Európai Unión belül vámmentesen lehet rendelni
nagy választék

Sok webáruház kínálatát megnézte, talált is Európai Unión belül működő webshopokat, ahol elérhető a kiszemelt nyaklánc, így már csak az a nagy kérdés, hogy melyiket válassza, ha a legkedvezőbb ajánlatot akarja elfogadni, de abban is biztos akar lenni, hogy a nyaklánc még időben megérkezik.



	Jewelry Shop	Diamonds and Pearls	Necklaces	Tiara
ár	95 SEK	11 EUR	6,5 GBP	9 EUR
szállítási költség	27 SEK	ingyenes	2 GBP	2 EUR
szállítási határidő	5-7 munkanap	14 munkanap	14 munkanap	3-4 hét
expressz szállítás díja*	2 munkanap +30 SEK	nincs rá lehetőség	5 munkanap +3 GBP	3 munkanap + 4 EUR

*Az expressz szállítás a szállítási díjon felüli plusz költséget jelenti, cserébe az átlagosnál jóval hamarabb kiszállítják a rendelt árut.

A valuták aktuális árfolyama:

1 SEK = 31 HUF

1 GBP = 362 HUF

1 EUR = 324 HUF


Számoljátok ki, hogy az egyes áruházak kínálatában szereplő nyakláncokhoz milyen forintba átszámított összegben és mennyi idő alatt juthat hozzá KáPé, és írjátok meg, hogy melyiket ajánlatot érdemes választania!

Jewelry Shop ajánlata:

számítás:

Diamonds and Pearls ajánlata:

számítás:



Necklaces ajánlata:
számítás:

Tiara ajánlata:
számítás:

Melyik boltot válassza és miért? (2 pont)

A valuta alapján írjátok meg, hogy vajon melyik országban működik a bolt, ahonnan KáPé végül rendelt! (2 pont)

összesen: 20 pont /

FELADATSOR ÖSSZESEN: 50 PONT /

