

ISKOLA NEVE:.....

CSAPAT NEVE:.....

TELEPÜLÉS:.....

2019-2020-as tanév
3-4. osztályos kategória
1. forduló

1. feladat – szókereső

A szókeresőben 10 db, pénzügyekhez kapcsolódó szót rejtettünk el, keressétek meg őket! (Legyetek résen, az értelmes szavak bárhogy lehetnek írva: balról-jobbra, jobbról-balra, fentről-lefelé, lentől-felfelé és átlósan is mindkét irányban!)

A megtalált szavakat felhasználva - minden szó egyszer használható fel - egészítsétek ki a hiányos mondatokat úgy, hogy értelmet nyerjenek.

A szavak megtalálása és helyes beírása is 1-1 pontot ér. A feladatban tehát összesen 20 pont gyűjthető.

Y G E J K N A B L Y
K Ö T V É N Y O R H
S É T E T K E F E B
L T K G E J N L X L
K E N A H F Z E E L
S K J I M P C T R G
P S E Z R A I I J M
Q E D S Í O T H K H
P É N Z C V F X E V
G Á S A D Z A G P L

bankjegy, befektetés, csekk, forint, gazdaság, hitel, kamat, kötvény, pénz, vízjel

Régen, amikor még nem volt használatban a **pénz**, a működő **gazdaság** alapja a cserekereskedelem volt.


A **vízjel** egy UV-fény alatt jól látható biztonsági jel, mely a **bankjegy** hitelességét igazolja.

A **befektetés** a pénzeszközök olyan elhelyezése, melynek célja, hogy több pénzünk legyen, ilyen például a betétszámla vagy a **kötvény** vásárlás is.

A **hitel** ára, amit vissza kell fizetni a kölcsönért cserébe, a **kamat**.

Mobilbankon keresztül belföldi **forint** átutalást is lehet indítani, de akár a **csekk** befizetését is el lehet intézni.

összesen: 20 pont /



2. feladat – állatkerti séta

KáPé családja a hétvégén állatkertbe megy, meg szeretnék nézni a nemrég született kiselefantot. Apa és Anya osztanak-szoroznak és kihozzák, hogy az állatkerti kiruccanásnak cakkumpakk bele kell férnie 15.000 Ft-ba.

Tervezzétek meg az Állatkerti kirándulás költségvetését úgy, hogy a megadott kereten belül maradjatok! Az utazás és a belépő vásárlás tekintetében arra törekedjétek, hogy a lehető legolcsóbb megoldást válasszátok! Az extra programok közül mindenképpen választani kell, de azt rátok bízuk, hogy milyen szempontok alapján. A számításokat minden esetben vezessétek le, mert ezek is pontozásra kerülnek.

utazás:

A kérdés, hogy autóval menjenek vagy tömegközlekedéssel? A séta nem opció, messze laknak! Ha az autót választják a benzinköltséggel és a parkolási díjjal kell számolniuk. A benzin költség összesen 600 Ft az oda-vissza útra, de a parkolás ára elég húzós, 500 Ft óránként és 5 órával kell számolni. Tömegközlekedés esetén csak Anyának kell jegy, összesen 4 db. A jegy ára 350 Ft/db.

megoldás:

autóval: $600+5 \times 500=3100$ Ft (2 pont)

tömegközlekedéssel: $4 \times 350=1400$ Ft (2 pont)

Tömegközlekedéssel olcsóbban jön ki az utazás. (1 pont)

állatkerti belépő:

Nem kérdés, ezzel muszáj számolni, már csak az a kérdés, hogy jön ki a legjobban! Apa és Anya felnőttek, KáPé 14 éves, Lili 5 éves.

jegyárak:

felnőtt jegy: 3.300 Ft

gyermek jegy (2-18 éves korig): 2.200 Ft

babajegy (2 éves kor alatt): 200 Ft

diákjegy (18 év fölött): 2.500 Ft

családi jegy - két felnőtt és egy (18 éven aluli) gyermek részére: 8.000 Ft

kiegészítő gyermekjegy minden további gyermeknek: 2.000 Ft

megoldás:

felnőtt+gyermek jegyek: $2 \times 3300+2 \times 2200=11000$ Ft (2 pont)

családi jegy+kiegészítő gyermekjegy: $8000+2000=10000$ Ft (2 pont)

Egy családi jegyet és egy kiegészítő gyermekjegyet érdemes venniük. (1 pont)

extrák:

- Az Állatkertben bizonyos állatokat megetethet kézből a látogató, de szigorúan csak az úgynevezett ZOO-csemegével, ami speciálisan ezeknek az állatoknak való nasi. KáPé és Lili is szeretnének egy-egy csomag csemegét, aminek ára 500 Ft/db.



- Az állatkerti ajándékboltban 2590 Ft egy cuki pici elefántos plüss, ami nagyon tetszik Lilinek.
- Az állatkerti fagyizóban 350 Ft 1 gombóc fagy. Lilinek elég 1 gombóc, de a többiek szívesen megesznek 2-2 gombócot.

Több jó megoldás van, egyet válasszatok, és indokoljátok meg, hogy miért ezekre az extra(k)ra esett a választásokat!

Mekkora összeg marad az extra programokra?

számolás:

megoldás:

15000-1400-10000=3600 Ft (2 pont)

Mennyibe kerülnek az extra programok?

számolás:

megoldás:

ZOO csemege: $2 \times 500 = 1000$ Ft (2 pont)


plüss elefánt: 2590 Ft (1 pont)

fagyizás: $1 + 3 \times 2 = 7$ $7 \times 350 = 2450$ Ft (2 pont)

A keretösszeg figyelembevételével állítsátok össze a kirándulás pénzügyi tervét!

pénzügyi terv	
tétel	költség
utazás	1400 Ft (fentebb már pontozásra került ugyanez a választás, ezért itt nem pontozzuk újra)
belépőjegy	10000 Ft (fentebb már pontozásra került ugyanez a választás, ezért itt nem pontozzuk újra)
extra programok	<ol style="list-style-type: none"> 1. ZOO csemege + plüss elefánt - $1000 + 2590 = 3590$ Ft 2. ZOO csemege + fagyizás - $1000 + 2450 = 3450$ Ft 3. csak a ZOO csemege – 1000 Ft 4. csak a plüss elefánt – 2590 Ft 5. csak a fagyizás – 2450 Ft 6. mindhárom – $1000 + 2590 + 2450 = 6040$ Ft <p>Itt minden lehetséges opciót pontozunk, attól függetlenül, hogy belefér-e a keretbe. Csak egy összeállítást (a legfelsőt) pontozzuk (2 pont), a többit figyelmen kívül hagyjuk.</p>
összesen	<ol style="list-style-type: none"> 1. $1400 + 10000 + 3590 = 14990$ Ft 2. $1400 + 10000 + 3450 = 14850$ Ft 3. $1400 + 10000 + 1000 = 12400$ Ft 4. $1400 + 10000 + 2590 = 13990$ Ft 5. $1400 + 10000 + 2450 = 13850$ Ft 6. $1400 + 10000 + 6040 = 17440$ – nem fér bele a keretbe, rossz megoldás, nem jár érte pont! <p>Csak egy összeállítást (a legfelsőt) pontozunk (2 pont), a többit figyelmen kívül hagyjuk.</p>

Miért ezeket az extra programokat választottátok? (1 pont)



például: mi csak a ZOO csemegét választottuk, hogy a lehető legtöbbet spóroljuk, stb.

összesen: 22 pont /

3. feladat - biztosításkötés

Láthattatok a vigyázz#KáPé vlogban, hogy miért is olyan fontos, hogy adott esetben az ember biztosítást kössön.

Jelöljétek, hogy az alábbi állítások igazak vagy hamisak! A helyes válaszok 1 pontot érnek.

Az életbiztosítás az öngondoskodás egyik formája.

igaz / hamis

Ha elutazunk síelni, érdemes nyugdíjbiztosítást kötnünk.

igaz / hamis

Ha bekövetkezett a kár és utólag kötsz biztosítás, a biztosító akkor is fizet.

igaz / hamis


A kötelező gépjármű felelősségbiztosítás mindenkinek meg kell kötnie, akinek autója van.

igaz / hamis

Amyék családja elutazik síelni Ausztriába, ezért biztosítást is kötnek. Fontos szempont számukra, hogy a poggyászbiztosítás minimum 200 000 Ft legyen, mert értékes fényképezőgépet és laptopot is visznek magukkal.

A lehetőségek közül melyik ajánlatot érdemes választani? Választásotokat indokoljátok is!

		Alpok csomag	Pireneusok csomag	Mont Everest csomag
kártérítés összege	kutatás, mentés	1 000 000 forint	5 000 000 forint	10 000 000 forint
	sürgősségi egészségügyi költségek baleset esetén	8 000 000 forint	23 000 000 forint	45 600 000 forint
	sürgősségi egészségügyi költségek betegség esetén	5 700 000 forint	11 400 000 forint	22 800 000 forint
	betegszállítás	limit nélkül	limit nélkül	limit nélkül



	poggyász biztosítás (sporteszközre is)	130 000 forint	200 000 forint	300 000 forint
	jogvédelem, személyi felelősségbiztosítás	910 000 forint	1 370 000 forint	2 280 000 forint
biztosítás ára 1 főnek		2480 Ft/hét	3350 Ft/hét	678 Ft/nap

Az Alpok csomagban nem elég magas a poggyászbiztosítás, így ez kiesik a lehetőségek közül. A Mont Everest csomag 1 hétre átszámolva 4746 Ft, tehát drágább, mint a Pireneusok csomag.

Melyik biztosítást ajánljátok a családnak? (1 pont) Miért? (2 pont)

1 hetes síelésre a Pireneusok csomagot érdemes választani, mert ez a legkedvezőbb megoldás azok közül, amik teljesítik az igényeket.

Ugyanakkor elfogadható a Mont Everest csomagra tett ajánlás is, megfelelő indoklás mellett: például, hogy napi ára miatt rugalmasabban alakítható, vagy hogy arányaiban nem annyival drágább, mint amennyivel magasabb összegre biztosít.

Mi lehet a biztosítás hátulütője? (2 pont)

Lehet, hogy a befizetett összeget sosem kapjuk vissza, mert sosem ér minket kár.

Miért fontos mégis biztosítást kötni? (3 pont)

Mert biztonságérzetet ad – és ha kárunk keletkezik, akkor biztosítás nélkül hatalmas költségeink keletkezhetnek, amit nem biztos, hogy önerőből ki tudunk fizetni.

összesen: 12 pont /

FELADATSOR ÖSSZESEN: 54 PONT /

