

ISKOLA NEVE:.....

CSAPAT NEVE:.....

TELEPÜLÉS:.....

**2019-2020-as tanév**  
**5-6. osztályos kategória**  
**1. forduló**

**1. feladat – szókereső**

**A szókeresőben 10 db, pénzügyekhez kapcsolódó szót rejtettünk el, keressétek meg őket!** (Legyetek résen, az értelmes szavak bárhogy lehetnek írva: balról-jobbra, jobbról-balra, fentről-lefelé, lentről-felfelé és átlósan is mindkét irányban!)

**A megtalált szavakat felhasználva egészítsétek ki a hiányos mondatokat úgy, hogy értelmet nyerjenek. Minden szó egyszer használható fel, és előfordulhat, hogy ragozni kell!**

*A szavak megtalálása és helyes beírása is 1-1 pontot ér. A feladatban tehát összesen 20 pont gyűjthető.*


T E Z E V Ö Ó R U E H B P Y U  
M K L T O E E O A D A M É G W  
Ó E P G A X G K E N A O N E O  
O I R L P K U Y K E T G Z J D  
S S C O Z G I A E Z Z H N K R  
T C R K X D U O N N J O E N W  
G T T X A T L É E H L M M A G  
D L M G O Z P K Y F S E I B T  
G J P M N Z N P É N Z Ü G Y I  
K W A I S U K A T R O P M I L  
Y T B É N T Q P R K Y W U L E  
A G K R E F O P Y T H D K Y I  
M P G D X T M I W O K A B O U  
Y F O U A R D J W T H V S V R  
A M B R G H D Z A C K J Q M F

bankautomata, bankjegy, egyenleg, euróövezet, export, import, készpénz, pénznem, pénzügyi, tranzakció

Az **euróövezet** azoknak az Európai Unió országosnak az összefoglaló neve, ahol a hivatalos **pénznem** az euró.

A **bankjegy** és a pénzérme összefoglaló neve a **készpénz**.

A **pénzügyi tranzakció** kifejezés leggyakrabban a banki átutalások szinonimájaként használják.



A **bankautomatán** keresztül a számla **egyenlegét** is le tudjuk kérdezni.

Az **export** alatt a Magyarországról külföldre szállított termékeket, míg az **import** alatt a külföldről Magyarországra szállított termékeket értjük.

**összesen: 20 pont /**

## 2. feladat – irány a vidámpark!

Dini és a szülei az őszi szünetben Bécsbe utaznak, ahol van egy nagyon híres vidámpark is, a Prater, ide is el szeretnének látogatni. Dini már kinézett egy csomó látványosságot, de az anyukája megmondta neki, hogy mind biztos nem fér bele, úgy válogasson, hogy a vidámparkozás összköltsége ne legyen több 30.000 Ft-nál. Bécsben persze nem a forint a hivatalos pénznem, hanem az euró! 1 euró=330 Ft árfolyammal számoljatok!

Tervezzétek meg a vidámparkozás költségvetését úgy, hogy a megadott kereten belül maradjatok! A látványosságok között szabadon válogathattok. A számításokat minden esetben vezessétek le, mert ezeket is pontozzuk.

**tömegközlekedés:** 3 különböző tömegközlekedési eszközt kell használniuk az oda és a vissza úton is, így fejenként 6 vonaljegyre lenne szükségük.

jegyárak:

- felnőtt vonaljegy: 2,40 euró
- gyerek vonaljegy: 1,40 euró
- Vienna City Card 24 órás (minden tömegközlekedési eszközre érvényes): 8 euró

**Prater:** a park területére ingyenes a belépés, de az egyes látványosságokért külön-külön kell fizetni. A Vienna City Carddal rendelkezők kedvezményes jegyekre jogosultak minden látványosság esetén.

**legkedveltebb látványosságok:**

Óriáskerék jegyárak:

- felnőtt: 9 euró
- gyerek: 4 euró
- Vienna City Card-dal: 6 euró

Madame Tussauds Panoptikuma jegyárak:


- a helyszínen: 24 euró/fő
- a helyszínen Vienna City Card bemutatással: 20 euró/fő
- online előrendeléssel: 16 euró/fő

Prater Tower körhinta jegyárak:

- felnőtt: 6 euró
- gyerek: 3 euró
- Vienna City Card-dal: 4 euró

Liliputbahn kisvasút jegyárak:

- körutazás 4km: 5 euró/fő



- szakaszjegy 2km: 2,5 euró/fő
- Vienna City Card-dal: 1 euró kedvezmény minden jegyből!

Hotel Psycho szellemvasút jegyárak:

- felnőtt: 6 euró
- gyerek: 3 euró
- Vienna City Card-dal: 4 euró

Boomerang hullámvasút jegyárak:

- jegyár: 10 euró
- Vienna City Card-dal: 7 euró

A tervezés során több jó megoldás van, egyet válasszatok, és indokoljátok meg, hogy miért ezekre esett a választásotok!

**Euróra átszámítva mennyi a vidámparkozás költségkerete? Két tizedesre kerekítsetek!**

számolás:

**30000/330=90,90 euró (2 pont)**

**megoldás:**

**Mennyibe kerül a családnak a tömegközlekedés?**

számolás:

**vonaljegyvel:**

**felnőtt  $12 \times 2,4 = 28,8$**

**gyerek:  $6 \times 1,4 = 8,4$**

**összesen: 37,2 euró (2 pont)**

**Vienna City Carddal:  $3 \times 8 = 24$  euró (2 pont)**

**megoldás: a Vienna City Card (VCC) éri meg (1 pont)**

**Mennyibe kerülnek az egyes látványosságok a családnak (2 felnőtt, 1 gyerek)? (2-2 pont)**

Óriáskerék:

kombinált:  $2 \times 6 + 4 = 16$  euró (1 pont)

VCC:  $3 \times 6 = 18$  euró (0,5 pont)

VCC nélkül:  $2 \times 9 + 4 = 22$  euró (0,5 pont)

Madame Tussauds Panoptikuma:

helyszíni:  $24 \times 3 = 72$  euró (0,5 pont)

helyszíni VCC-vel:  $3 \times 20 = 60$  euró (0,5 pont)


online:  $3 \times 16 = 48$  euró (1 pont)

Prater Tower körhinta:

kombinált:  $2 \times 4 + 3 = 11$  euró (1 pont)

VCC:  $3 \times 4 = 12$  euró (0,5 pont)

VCC nélkül:  $2 \times 6 + 3 = 15$  euró (0,5 pont)



Liliputbahn kisvasút:

körút VCC nélkül:  $5 \times 3 = 15$  euró (0,5 pont)

körút VCC-vel:  $4 \times 3 = 12$  euró (0,5 pont)

szakaszjegy VCC nélkül:  $3 \times 2,5 = 7,5$  euró (0,5 pont)

szakaszjegy VCC-vel:  $3 \times 1,5 = 4,5$  euró (0,5 pont)

Hotel Psycho szellemvasút:

kombinált:  $2 \times 4 + 3 = 11$  euró (1 pont)

VCC:  $3 \times 4 = 12$  euró (0,5 pont)

VCC nélkül:  $2 \times 6 + 3 = 15$  euró (0,5 pont)

Boomerang hullámvasút:

VCC-vel:  $3 \times 7 = 21$  euró (1 pont)

VCC nélkül:  $3 \times 10 = 30$  euró (1 pont)

Csak akkor jár a 2 pont látványosságoként, amennyiben minden lehetséges opciót kiszámolt a csapat. Egyéb esetben csak részpont adható.

**A keretösszeg figyelembevételével állítsátok össze a kirándulás pénzügyi tervét!**

pénzügyi terv	
tétel	költség
utazás	(fentebb már pontozásra került ugyanez a választás, ezért itt nem pontozzuk újra)
látványosságok	Itt minden lehetséges opciót pontozunk, attól függetlenül, hogy belefér-e a keretbe. Csak egy összeállítást (a legfelsőt) pontozzuk (2 pont), a többit figyelmen kívül hagyjuk.
összesen	Csak egy összeállítást (a legfelsőt) pontozunk (2 pont), a többit figyelmen kívül hagyjuk. Azokért a megoldásokért, amik nem férnek bele a keretbe, nem jár pont!

**Miért ezeket az extra programokat választottátok? (1 pont)**

A gondolkodásmódot értékeljük, így minden logikus válasz elfogadható, például: mi azt tartottuk szem előtt, hogy a lehető legtöbb látványosság beleférjen a keretbe, vagy: mi mindenképpen szerettünk volna elmenni a Panoptikumba, úgy válogattunk, hogy ez mindenképpen beleférjen a keretbe!


**Mennyi pénz maradt meg a keretből forintba átszámolva? Az 5 Ft-os kerekítési szabály szerint adjátok meg az összeget! (2 pont)**

megoldás: költségkeret – pénzügyi terv összesen = x (euró)

forintban: 330x

Itt alapvetően a gondolatmenetet értékeljük, tehát korábbi elszámolás esetén ugyanúgy jár a pont.

összesen: 26 pont /



### 3. feladat - bankszámlanyitás

Láthattátok a vigyázz#KáPé vlogban, hogy főhősünknek bankkártyája lett. De hogyan is néz ki ez a folyamat? Ti tudjátok mi is kell ahhoz pontosan, hogy valakinek bankkártyája lehessen?

Válaszoljatok az alábbi kérdésekre, azután pedig a felsorolt lehetőségek közül válasszátok ki a legjobb opciót!

#### **Mi a bankszámla és a bankkártya közötti összefüggés? (2 pont)**

A bankkártya egy eszköz, amivel a bankszámlánkon tartott pénzt használni tudjuk. Anélkül, hogy készpénzt kellene felvennünk, fizethetünk vele.

#### **Miért tartják a bankkártyát biztonságosabb fizetőeszköznek, mint a készpénzt? (2 pont)**

A készpénz könnyen elveszik, ellophatják – ez szinte kizárt, hogy visszakapjuk valaha is. Ha a bankkártyával történik ugyanez, attól a pénzünk még ugyanúgy megmarad a bankszámlán.

#### **Mit kell tenni, ha elveszik a bankkártyánk? (2 pont)**

Azonnal fel kell hívni a bankunkat, és letiltani a kártyát, így egészen biztos, hogy senki nem fog hozzáférni a pénzünkhöz!

Alább láthatjátok 3 bank ajánlatát, mindegyik lakossági bankszámlanyitásra vonatkozik. A lehetőségek közül melyik ajánlatot érdemes választani? Választásotokat indokoljátok úgy, hogy az mindhárom ajánlatra fogalmazzon meg állítást!

#### **Alma Bank / „Jonatán” lakossági számla**

számlanyitás díja: 0 Ft

számlavezetési díj: első évben 0 Ft, utána évi 5000 Ft

bankkártya díja: első évben 0 Ft, utána évi 10000 Ft

#### **Körte Bank / „Vilmos” lakossági számla**

számlanyitás díja: 0 Ft

számlavezetési díj: első évben 0 Ft, utána havi 360 Ft

bankkártya díja: első évben 0 Ft, utána havi 820 Ft

#### **Dinnye Bank / „Sárga” lakossági számla**

számlanyitás díja: 500 Ft

számlavezetési díj: első évben 1000 Ft, utána évi 4500 Ft


bankkártya díja: első évben 2000 Ft, utána évi 9500 Ft

#### **számítások:**

##### **Alma Bank költségei:**

első évben: 0 Ft

további éveken:  $5000+10000=15000$  Ft (2 pont)



**Körte Bank költségei:**

első évben: 0 Ft

további években:  $12 \times 360 + 12 \times 820 = 14160$  Ft (2 pont)

**Dinnye Bank:**

első évben:  $500 + 1000 + 2000 = 3500$  Ft

további években:  $4500 + 9500 = 14000$  Ft (2 pont)

**indoklás:**

Az Alma Bank ajánlata a legkevésbé kedvező a 3 ajánlat közül. (1 pont)

A Körte Bank ajánlata kedvező, mert az első évben nincs díj, és a későbbiekben is csak 160 Ft-tal drágább az éves fenntartás, mint a Dinnye Banknál. (1 pont)

A Dinnye Banknál van számlanyitási és első éves díj is, de a további fenntartása ennek a legkedvezőbb. (1 pont) Nem feltétlenül jobb ajánlat, mint a Körte Banké, mert a különbség több mint 21 év alatt térülne csak meg. (1 pont)

Megoldásként a Körte és a Dinnye Bank ajánlata is jó. (1 pont)

összesen: 17 pont /

FELADATSOR ÖSSZESEN: 63 PONT /

